







**Международный турнир «Математические ступеньки»  
(для дошкольников)**

**Задания**

**Ответ должен быть представлен строго в виде ОДНОГО ЧИСЛА без кавычек, точек, орфографических ошибок в именительном падеже и единственном числе. Неверно записанные ответы не учитываются.**

№	Задача	
1	В двух гнёздах ласточек 10 птенцов. Из одного гнезда уже вылетели 5 птенцов, из другого – 3. Скольким птенцам еще предстоит вылететь? <i>В ответе запишите только одно число.</i>	
2	Бобры построили 3 плотины, а потом еще 5. Сколько всего плотин построили бобры? <i>В ответе запишите только одно число.</i>	
3	Какое число будет стоять на седьмом месте в последовательности чисел: 1, 3, 5, 7, ... . Запишите это число в ответе. <i>В ответе запишите только одно число.</i>	
4	У Ани было две ленточки. Она разрежала обе ленточки, сделав на каждой два разреза. Сколько теперь у Ани ленточек? <i>В ответе запишите только одно число.</i>	
5	Масса трёх яиц стрижа 8 грамм. Одно из них весит 3 грамма, второе – 2 грамма. Сколько граммов весит третье яйцо? <i>В ответе запишите только одно число.</i>	
6	Помогите разделить 12 грибов поровну между двумя бельчатами. Сколько грибов досталось каждому? <i>В ответе запишите только одно число.</i>	
7	Два апельсина тяжелее, чем три яблока. Что тяжелее, три апельсина или четыре яблока? 1) три апельсина 2) четыре яблока 3) одинаково <i>В ответе запишите только номер выбранного варианта.</i>	
8	Маша живёт на этаже, который четвёртый сверху и снизу её дома. Сколько этажей в доме Маши? <i>В ответе запишите только одно число.</i>	

9	<p>У Наташи три пары перчаток. Сколько у неё перчаток на правую руку?  <i>В ответе запишите только одно число.</i></p>	
10	<p>Сосчитайте, сколько всего квадратов на рисунке.  <i>В ответе запишите только одно число.</i></p>	
11	<p>В трехлитровую кастрюлю, трехлитровый чайник и трехлитровый кувшин налили воды. Куда уместилось больше воды?          1) в кастрюлю          2) в чайник          3) в кувшин          4) одинаково  <i>В ответе запишите только номер выбранного варианта.</i></p>	
12	<p>У Лизы и Светы вместе 10 воздушных шариков. У Лизы на 4 шарика больше, чем у Светы. Сколько шариков у Светы?  <i>В ответе запишите только одно число.</i></p>	
13	<p>На столе стояла ваза. В вазе лежали три яблока, одна морковка, четыре груши и две луковицы. Сколько всего фруктов лежало в вазе?  <i>В ответе запишите только одно число.</i></p>	
14	<p>Миша старше своей сестры Маши на 2 года. На сколько лет Миша будет старше Маши через 5 лет?  <i>В ответе запишите только одно число.</i></p>	
15	<p>На вершину горы ведут 2 дороги. Сколько существует различных способов подняться и спуститься с горы?  <i>В ответе запишите только одно число.</i></p>	